

Odznak specializace MH

SPOJKA



Ověření znalostí

1. Co za signál je na obrázku?

- a) Vodu stav
- b) Rozumím
- c) Nebezpečí všichni zpět



2. Na kterém obrázku je vyobrazen signál „Rozumím“?



a)



b)



c)

3. Pomocí lana provedeme signál „VODU STAV!“

- a) jedním trhnutím
- b) dvojím trhnutím
- c) několikerým rychle po sobě jdoucím trhnutím

4. Lze při semaforové abecedě nahradit praporky baterkami?

- a) ne
- b) ano, kdykoli
- c) ano, ale pouze v noci

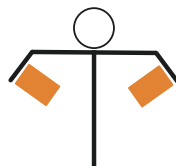
5. Které písmenko signalizuje obrázek?

- a) S
- b) M
- c) T




6. Které písmenko signalizuje obrázek?

- a) A
- b) U
- c) N




7. Které písmenko signalizuje obrázek?

- a) C
- b) E
- c) V



8. Co znamená tento signál?

- a) začátek čísel
- b) omyl
- c) konec



9. Jak znázorníme Morseovou abecedou písmeno B?

- a) -...
- b) -..-
- c) .---

10. Jak znázorníme Morseovou abecedou písmeno K?

- a) ---
- b) -.-
- c) .-.

11. Jak znázorníme Morseovou abecedou písmeno Q?

- a) ---.
- b) -..-
- c) --.-

12. Jak znázorníme Morseovou abecedou číslici 8?

- a) --...
- b) ---..
- c) ...--

13. Jak znázorníme Morseovou abecedou číslici 1?

- a) .----
- b) -....
- c) -----

14. Jak správně hláskujeme podle české hláskovací abecedy písmeno A?

- a) Adam
- b) Adéla
- c) Arnošt

15. Jak správně hláskujeme podle české hláskovací abecedy písmeno J?

- a) Jan
- b) Josef
- c) Jaromír

16. Jak správně hláskujeme podle české hláskovací abecedy písmeno V?

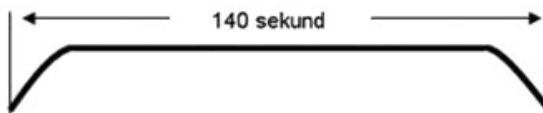
- a) Vojtěch
- b) Václav
- c) Vratislav

17. Jaká je správná délka signálu Všeobecná výstraha?

- a) 140 vteřin
- b) 60 vteřin
- c) 120 vteřin

18. Signál na obrázku znázorňuje?

- a) Všeobecnou výstrahu
- b) Požární poplach
- c) Zkoušku sirén



19. Tón požárního poplach má tvar:

- a) 25 vteřin tón, 10 vteřin pauza, 25 vteřin tón
- b) 10 vteřin tón, 25 vteřin pauza, 10 vteřin tón
- c) 20 vteřin tón, 20 vteřin pauza, 20 vteřin tón

20. Co nepatří do evakuačního zavazadla?

- a) přenosné rádio
- b) MP3 přehrávač
- c) náhradní baterie

21. Kočky a psi při evakuaci:

- a) ponecháme na zahradě
- b) ponecháme doma a zásobíme potravou a vodou
- c) vezmeme s sebou

22. Pokud zazní signál požární poplach:

- a) neprodleně se všichni musíme dostavit na hasičskou zbrojnici
- b) na signál nereagujeme
- c) zapneme televizi nebo rádio pro informaci, co se děje

TEST SPOJKA – SPRÁVNÉ ODPOVĚDI

- | | | | | | | | |
|--------|--------|--------|---------|---------|---------|---------|---------|
| 1. – a | 4. – c | 7. – c | 10. – b | 13. – a | 16. – b | 19. – a | 22. – b |
| 2. – b | 5. – a | 8. – b | 11. – c | 14. – a | 17. – a | 20. – b | |
| 3. – b | 6. – c | 9. – a | 12. – b | 15. – b | 18. – c | 21. – c | |

Doložení splnění specializace

Teoretická část – podmínky splnění:

- splněný test specializace Spojka – 15 vybraných otázek, max. 3 chyby
- vědomosti z jednotlivých učebních okruhů ověřené vedoucím na vhodných akcích (výlet v přírodě, tábor apod.), zápis v kronice o splnění specializace – datum, místo, podpis vedoucího
- splní všechny praktické úkoly:
 - ❖ zapamatuje si 8 z 10 předmětů po dobu jedné hodiny
 - ❖ ukáže alespoň 5 signálů
 - ❖ nakreslí situační náčrtek prostoru ve kterém se právě nachází
 - ❖ převede slovo nebo část textu do Morseovy abecedy